











OSZTHATÓSÁGI VIZSGÁLATOK

Haladj végig a labirintuson és gyűjtsd össze a helyes útvonalon található pontokat! Csak a hárommal osztható számokra léphetsz!

946	START	973	197	44	239	172	181	173	677	827	652
493	225		364	232	715	50	584	646	776	904	791
647	732	316	40	961	83	67	742	482		994	139
898	798	201		663	420	871	361	922	532	137	562
671	232	283	478	119	426	901	197	529	109	218	751
92	515	733	485	962	843	998		443	781	940	439
211		497	340	41		64	199	646	164	317	647
995	515	845	477	546	747	313	146	829	11		779
275	523	466	357	35	455		134	628	530	865	844
956	559	383		778	188	968	73		65	152	841
851	860	760	786	908	767	232	581	388	856	787	872
76	812	860	552	26	746	508	511	449	400	115	767

Milyen színű pontok voltak az úton?