

Tedd nagyság szerint csökkenő sorrendbe az alábbi számokat! Minden jelmez mellé írd oda azt, hogy hányadik a sorban. Az 1-es szám jelölje a legnagyobb számhoz tartozó jelmezt.



(+5)



(-7)



(-4)



(+3)



(-9)



(-8)



(+4)



(-1)



(+8)



(-6)




(+2)



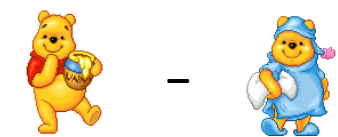
(+7)

A fenti jelmezek alatt található számok segítségével végezd el a műveleteket!



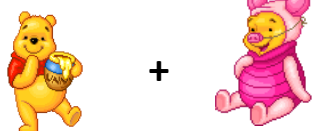
-

=



-

=



+

=



+

=



-

=



+

=



+

=



-

=



+

=



-

=



+

=



-

=