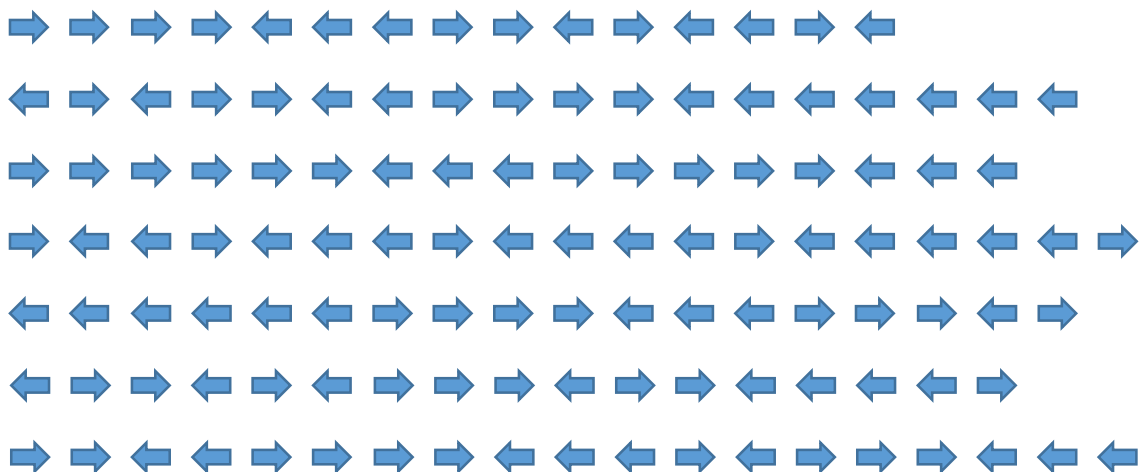
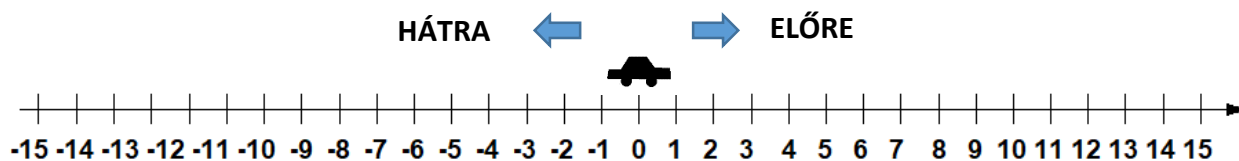
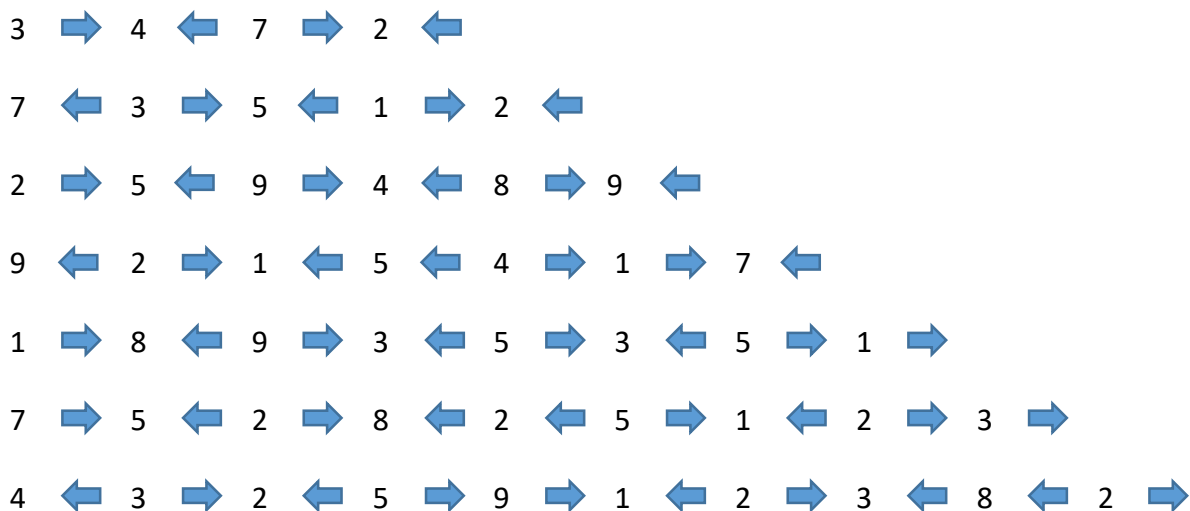


A kisautó mindig a 0-ból indul. Vezesd végig az úton a nyilak szerint. 1 nyíl egy egységnyi lépést jelent. Melyik számon áll meg kisautó?



A kapott eredményeidet rendezd növekvő sorrendbe!

Az előző számegyenes segítségével folytasd a kisautó mozgatását! A kisautó a 0-ból indul és ezúttal a számok mutatják, mennyit kell előre vagy hátra mozgatni. Melyik számra érkezik a kisautó, ha végig halad a előírás szerint?



A kapott eredményeidet rendezd csökkenő sorrendbe!