





































TÁJÉKOZÓDÁS

Keress meg az egyformákat! pl. A1 és az F6 helyeken is Törpíri található., tehát A1 = F6.

6						
5						
4						
3						
2						
1						
	A	B	C	D	E	F

A1	=	F6	=		=		=
_____	=	_____	=	_____	=	_____	=
_____	=	_____	=	_____	=	_____	=
_____	=	_____	=	_____	=	_____	=
_____	=	_____	=	_____	=	_____	=