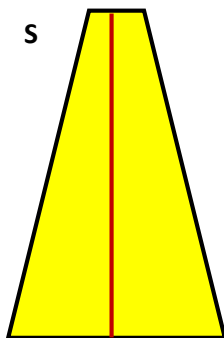
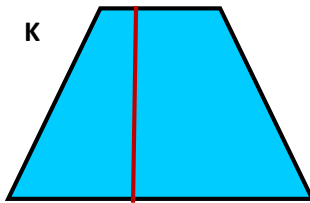
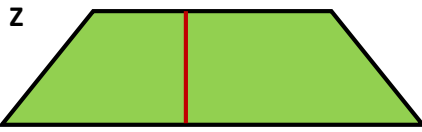


Adott négy különböző trapéz. A szükséges adatok lemérése után számítsd ki a kerületüket és a területüket.



Rendezd nagyság szerint csökkenő sorrendbe a trapézokat területük alapján:

Rendezd nagyság szerint csökkenő sorrendbe a trapézokat kerületük alapján: