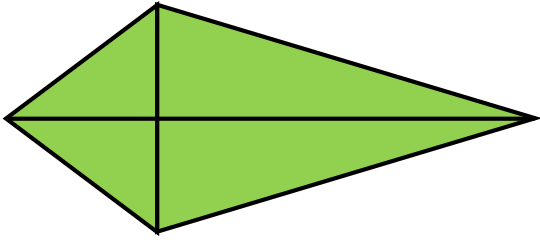
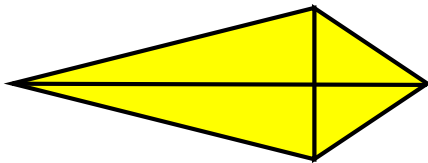


Adott négy különböző deltoid. A szükséges adatok lemérése után számítsd ki a kerületüket és a területüket.

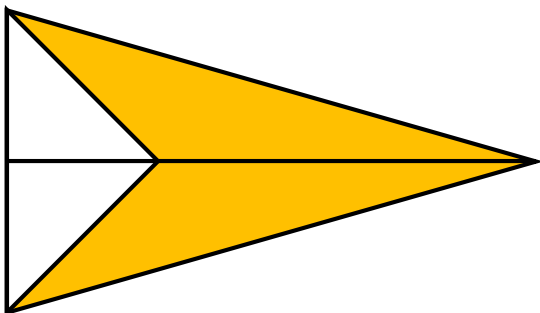
Z



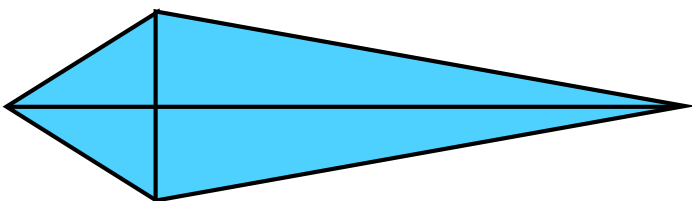
S



N



K



Rendezd nagyság szerint növekvő sorrendbe a deltoidokat területük alapján:

Rendezd nagyság szerint csökkenő sorrendbe a deltoidokat kerületük alapján: