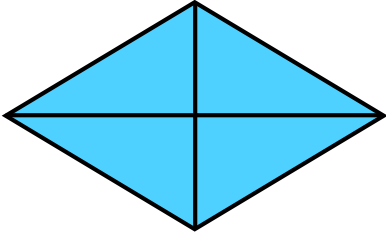
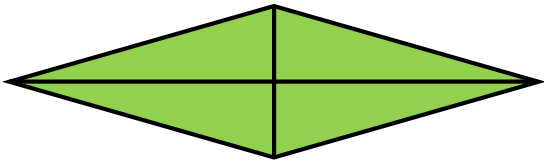


Adott négy különböző rombusz. A szükséges adatok lemérése után számítsd ki a kerületüket és a területüket.

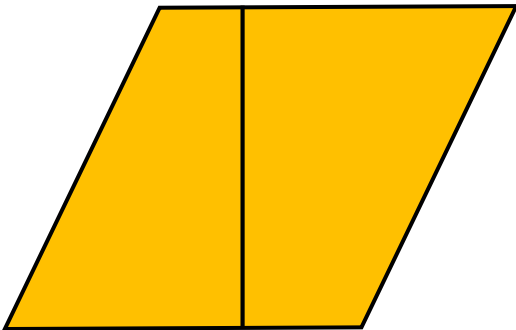
K



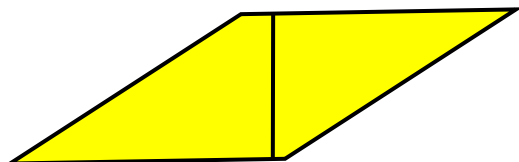
Z



N



S



Rendezd nagyság szerint csökkenő sorrendbe a rombuszokat területük alapján:

Rendezd nagyság szerint növekvő sorrendbe a rombuszokat kerületük alapján: